

۱. موارد آمادگی راننده کدام موارد است؟

- ۱) تفکر، موقعیت، ادب و نزاکت، دانش قبلی
- ۲) مشاهده، پیش بینی، تمرکز، آگاهی و عدم حواس پرتی
- ۳) تفکر، مشاهده، تمرکز، ادب و نزاکت
- ۴) مشاهده، تفکر، ادب و نزاکت، پیش بینی، تامل

۲. در یک سه راه حق تقدم عبور با چه اتومبیلی است؟

- ۱) اتومبیلی که می خواهید به سمت راست گردش کند
- ۲) اتومبیلی که می خواهد به سمت چپ گردش کند
- ۳) اتومبیلی که در سمت مستقیم عبور می کند
- ۴) همه موارد

۳. در راه های مسطح که دو طرف راه منتهی به کوه و پرتگاه می باشد حق تقدم عبور با وسیله نقلیه ای است که...؟

۱. در طرف کوه قرار دارد
۲. سرعت بالاتری دارد
۳. در طرف پرتگاه قرار دارد
۴. سرعت کمتری دارد

۴. با اتومبیلی در حال حرکت در جاده برفی هستیم کدام مورد غلط است؟

- ۱) هر ۱۵ کیلومتر ۳ طول اتومبیل
- ۲) هر ۳۰ کیلومتر ۶ طول اتومبیل
- ۳) هر ۴۵ کیلومتر ۹ طول اتومبیل
- ۴) هر ۶۰ کیلومتر ۱۳ طول اتومبیل

۵. در راه بدون جدول در راه سربالایی فرمان را به سمت ... بچرخانید.

- ۱) راست
- ۲) چپ
- ۳) جلو
- ۴) هیچکدام

۶. رنگ قهوه ای برای چه موردی است؟

- ۱) راهنما برای مناطق اداری و آموزشی، خدماتی
- ۲) راهنما برای مناطق تفریحی و فرهنگی و گردشگری
- ۳) راهنمای مسیر در سایر راه ها
- ۴) هشدار برای عملیات ساختمانی

۷. اولین اقدام برای روشن کردن اتومبیل ... می باشد.

۱. گرفتن کلاچ با پای چپ
۲. استارت زدن
۳. بستن کمربند
۴. خلاص کردن دنده

۸. حداکثر سرعت در جاده اصلی در روز ... و در شب ... می باشد.

- ۱) ۷۵ و ۸۵
- ۲) ۸۵ و ۹۵
- ۳) ۵۵ و ۶۵
- ۴) ۴۵ و ۵۵

۹. از راهنمای سمت راست برای کدام مورد استفاده نمی شود؟

۱. ورود به پارک
۲. حرکت با دنده عقب
۳. بعد از پایان سبقت
۴. دور زدن

۱۰. از فلشر یا چهارچراغ برای چه کاری استفاده نمی شود؟

- (۱) برای اطلاع به خودروهای پشت سر از وقوع حادثه
- (۲) زمانی که خودروی ما دچار نقص شود
- (۳) زمانی که چاره ای جز توقف ناگهانی نداشته باشیم
- (۴) هنگام شرایط جوی نامناسب یا بوکسل

۱۱. کلاج گرفتن باعث کدامیک از موارد زیر می شود؟

- (۱) کنترل راننده به حرکت و جهت اتومبیل کم می شود
- (۲) کنترل راننده به حرکت و جهت اتومبیل بیشتر می شود
- (۳) پیچیدن به طرفین و چرخاندن فرمان سخت تر می شود
- (۴) کلاج ماشین خراب می شود

۱۲. اولین گام در تصادفات وقتی مصدوم داریم چیست؟

- (۱) خاموش کردن موتور وسیله نقلیه
- (۲) خوراکی ندادن به مصدوم
- (۳) تماس با اوژانس
- (۴) کمک به مصدومین

۱۳. اولین قدم بعد از روشن کردن اتومبیل چیست؟

- (۱) گرفتن کلاج با پای چپ
- (۲) بستن کمربندی ایمنی خود و سرنشینان
- (۳) خوابندن ترمز دستی
- (۴) نگاه به آینه ها

۱۴. مستطیل قائم به چه معناست؟

- (۱) علامت هشدار دهنده
- (۲) معمولا برای تابلوهای راهنما و هشدار برای خطرات ناشی از تعمیر و نگهداری
- (۳) معمولا برای تابلوهای دستوری و خدمات
- (۴) معمولا برای علائم راهنما

۱۵. کدامیک از موارد زیر جز نقض فنی حساب نمی شود؟

- (۱) خرابی چراغ های جلو و عقب
- (۲) خرابی ترمزها
- (۳) نداشتن آج
- (۴) کم باد بودن چرخ ها

۱۶. چه کسانی قانونا مجاز به هدایت ترافیک هستند؟

- (۱) پلیس راهنمایی و رانندگی
- (۲) پلیس مدرسه
- (۳) کارگران تعمیرات جاده ای
- (۴) همه موارد

۱۷. هوای گرم روی .. تاثیر می گذارد؟

- (۱) بادلاستیک
- (۲) دمای موتور
- (۳) ترمزها
- (۴) مورد یک و دو صحیح می باشد

۱۸. کدامیک از موارد بر همه مقدم تر می باشد.

- (۱) فرمان پلیس
- (۲) چراغ راهنما
- (۳) تابلوها
- (۴) بستن کمربند

۱۹. از میخ های زرد رنگ چشم گربه ای کجا استفاده می شود؟

- (۱) در مسیر رفت و برگشت جاده ها
- (۲) بین محل خالی وسط آزاد راه ها و باند اصلی
- (۳) در آزاد راه در هوای تاریک
- (۴) در مسیر ورودی و خروجی باند افزایش یا کاهش سرعت

۲۰. در شرایط یخ بندان برای جلوگیری از لغزش خودرو باید...

- (۱) با دنده سنگین و سرعت کمتر حرکت کنیم
- (۲) فرمان را به سمت لغزش بچرخانیم
- (۳) با سرعت دو تانیه حرکت کنیم
- (۴) با سرعت کم حرکت کنیم

۲۱. نام تابلو مقابل چیست؟



- (۱) عبور عابر پیاده
- (۲) گذرگاه پیاده
- (۳) فقط عبور عابر پیاده
- (۴) عبور اطفال

۲۲. این تابلو چه تابلویی است؟



- (۱) انتظامی
- (۲) اخباری
- (۳) آگاهی دهنده
- (۴) اختطاری

۲۳. نام تابلو مقابل چیست؟



- (۱) عبور ممنون
- (۲) توقف ممنوع
- (۳) ایستادن ممنون
- (۴) منطقه توقف ممنوع

۲۴. نام تابلو مقابل چیست؟



- (۱) خیابان یکطرفه
- (۲) جاده یکطرفه
- (۳) راه یکطرفه
- (۴) فقط عبور مستقیم مجاز

۲۵. نام تابلوی زیر چیست؟




- (۱) حداکثر سرعت
- (۲) حداقل سرعت
- (۳) سرعت توصیه شده
- (۴) پایان حداکثر سرعت

۲۶. تابلوی زیر جز کدام تابلوها است؟




- (۱) انتظامی
- (۲) اختطاری
- (۳) اخباری
- (۴) مکمل

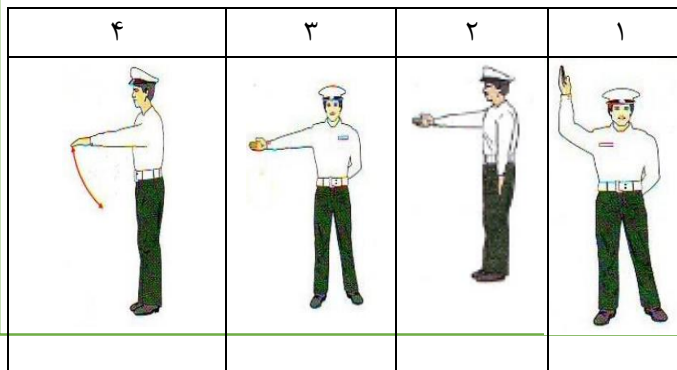
۲۷. کدام یک از موارد زیر به معنای پیچ به چپ می باشد



۲۸. کدام علامت انتظامی می باشد؟



۲۹. کدام به معنای هر چهار طرف پشت خط ایست بمانند است؟



۳۰. اگر چندین خودرو و یک آمبولانس در یک تقاطع هم عرض باشد و جلوی آمبولانس تابلوی ایست باشد حق تقدم با چه کسی است؟

- ۱) اتومبیلی که از سمت راست گردش می کند
- ۲) اتومبیلی که سمت راست آن خالی باشد
- ۳) آمبولانس
- ۴) اتومبیلی که در مسیر مستقیم عبور می کند

شماره برگه آزمون سوالات: .... نمونه پاسخ نامه

سوال	گزینه ۱	گزینه ۲	گزینه ۳	گزینه ۴	سوال	گزینه ۱	گزینه ۲	گزینه ۳	گزینه ۴	سوال	گزینه ۱	گزینه ۲	گزینه ۳	گزینه ۴
۱					۱۱					۲۱				
۲					۱۲					۲۲				
۳					۱۳					۲۳				
۴					۱۴					۲۴				
۵					۱۵					۲۵				
۶					۱۶					۲۶				
۷					۱۷					۲۷				
۸					۱۸					۲۸				
۹					۱۹					۲۹				
۱۰					۲۰					۳۰				